

TEST

8

1 Za vrijeme upravljanja vozilom koje je označeno „probnim“ tablicama vozač mora imati kod sebe:

- 1 važeću potvrdu uz probne tablice, koju je dužan pokazati na zahtjev ovlaštenog lica;
- 2 dokaz o uplati propisanih naknada za probne registarske tablice.

A, B, C, D, T

2 Tehnički pregled motornih i priključnih vozila obavlja se:

- 1 radi provjere da li motorno ili priključno vozilo ima propisane uređaje i opremu i da li je u ispravnom stanju;
- 2 radi utvrđivanja vlasništva vozila.

A, B, C, D, T

3 Vlasnik vozila, ako ne produži registraciju vozila u roku od 30 dana od dana isticanja važenja potvrde o registraciji, dužan je da vrati registarske tablice nadležnom organu:

- 1 u roku od 10 dana;
- 2 u roku od 8 dana;
- 3 u roku 48 h.

A, B, C, D

4 Lice koje se zatekne ili naiđe na mjesto saobraćajne nezgode u kojoj ima povrijeđenih:

- 1 dužno je da ukaže pomoć licima povrijeđenim u saobraćajnoj nezgodi;
- 2 ne smije pružati pomoć povrijeđenima do dolaska zdravstvenih radnika.

A, B, C, D, T

5 Manja materijalna šteta je:

- 1 šteta koja je nastala u saobraćajnoj nezgodi na vozilima u kojoj su se vozači dogovorili o izmirenju međusobnih obaveza, bez obzira na visinu štete;
- 2 šteta u saobraćajnoj nezgodi nastala na vozilu na kojem nisu oštećeni vitalni dijelovi i sklopovi i koje može samostalno da se kreće na putu.

A, B, C, D, T

6 Saobraćajna traka za prinudno zaustavljanje vozila je:

- 1 obilježeni uzdužni dio kolovoza na autoputevima i na određenim mjestima na putevima višeg ranga, kao i u tunnelima i galerijama, namijenjena za prinudno zaustavljanje vozila;
- 2 uzdužni dio kolovoza namijenjen za vozila koja sporom vožnjom smanjuju odvijanje saobraćaja;
- 3 dio kolovoza namijenjen za isključivanje vozila iz saobraćaja na putu.

A, B, C, D, T

7 Saobraćajna traka za ubrzavanje je:

- 1 dio kolovoza namijenjen za vozila javnog gradskog prevoza;
- 2 dio kolovoza namijenjen za uključivanje vozila u saobraćaj sa sporednog puta, odnosno drugih prilaznih puteva sa objekata pored puteva;
- 3 dio kolovoza čija je širina dovoljna za nesmetan saobraćaj dva reda vozila.

A, B, C, D, T

8 Svamotornavozila starosti dvije i više godina, radi učestvovanja u saobraćaju na javnom putu, podliježu obavezi redovnog tehničkog pregleda:

- 1 svaka 24 mjeseca;
- 2 svakih 18 mjeseci;
- 3 svakih 12 mjeseci.

A, B, C, D, T

9 Smanjena vidljivost postoji kada:

- 1 zbog nepovoljnih atmosferskih ili drugih prilika vozač ne može jasno da uoči druge učesnike u saobraćaju na udaljenosti od najmanje 200 m na putu izvan naselja, odnosno od najmanje 100 m u naselju;
- 2 zbog nepovoljnih atmosferskih ili drugih prilika vozač ne može jasno da uoči druge učesnike u saobraćaju na udaljenosti od najmanje 300 m na putu izvan naselja, odnosno od najmanje 200 m u naselju;
- 3 zbog nepovoljnih atmosferskih ili drugih prilika vozač ne može jasno da uoči druge učesnike u saobraćaju na udaljenosti od najmanje 250 m na putu izvan naselja, odnosno od najmanje 150 m u naselju;

A, B, C, D, T

10 U vozačku dozvolu upisuju se:

- 1 sve kategorije i potkategorije vozila kojima vozač ima pravo da upravlja;
- 2 samo one kategorije za koje je vozač položio vozački ispit;
- 3 sve kategorije vozila kojima vozač ima pravo da upravlja, a potkategorije samo ako to vozač naznači u zahtjevu za izdavanje vozačke dozvole.

A, B, C, D

11 Na autoputu vozač ne smije da upravlja vozilom koje se kreće: (više tačnih odgovora)

- 1 brzinom većom od 120 km/h;
- 2 brzinom većom od 130 km/h;
- 3 brzinom većom od brzine određene postavljenim saobraćajnim znakom.

A, B, C, D

12 Mijenjanje saobraćajne trake je:

- 1 prolaženje vozilom pored drugog vozila koje se kreće u istoj saobraćajnoj traci i u istom smjeru;
- 2 prolaženje vozilom pored zaustavljenog vozila koje se nalazi u saobraćajnoj traci kojom se vozilo kreće;
- 3 prelaženje vozilom iz jedne u drugu saobraćajnu traku za saobraćaj u istom smjeru radi prestrojavanja ili dozvoljenog bržeg kretanja.

A, B, C, D, T

13 Na putu u naselju vozač smije da upravlja vozilom brzinom: (više tačnih odgovora)

- 1 koja ne prelazi 50 km/h;
- 2 koja ne prelazi 40 km/h;
- 3 koja prelazi 50 km/h, ako je to saobraćajnim znakom dozvoljeno.

A, B, C, D, T

14 Brzi put je javni put koji: (više tačnih odgovora)

- 1 je namijenjen za saobraćaj isključivo motornih vozila sa jednom ili dvije razdvojene kolovozne trake;
- 2 povezuje veće gradove i važnija privredna područja Bosne i Hercegovine;
- 3 ima sve raskrsnice u dva ili više nivoa sa poprečnim putevima i drugim saobraćajnicama (željezničkim prugama ili tramvajskim prugama);
- 4 povezuje važnija privredna područja Bosne i Hercegovine.

A, B, C, D, T

15 Saobraćajna traka za usporavanje je:

- 1 dio kolovoza namijenjen za isključivanje vozila iz saobraćaja na putu;
- 2 dio puta namijenjen isključivo za saobraćaj motornih vozila koja se kreću sporo i otežavaju brže odvijanje saobraćaja.

A, B, C, D, T

16 Zona smirenog saobraćaja je:

- 1 područje u naselju ili van naselja u kojem se ne mogu upotrebljavati zvučni znakovi upozorenja;
- 2 područje u naselju, obilježeno propisanim saobraćajnim znakom, u kojem vozila ne smiju da se kreću brzinom većom od brzine hoda pješaka zbog dozvoljenog kretanja pješaka i dječije igre;
- 3 područje u naselju, obilježeno propisanim saobraćajnim znakom, koje isključivo obuhvata zone oko škola i dječijih obdaništa

A, B, C, D, T

17 Ulica može da ima:

- 1 samo jednu saobraćajnu traku bez proširenja;
- 2 jednu saobraćajnu traku s tim da se odgovarajuće proširenje mora nalaziti na svakih 50 m;
- 3 najmanje dvije saobraćajne trake.

A, B, C, D, T

18 Koliki broj kaznenih bodova se može odrediti vozaču motornog vozila koji je prekršajnim nalogom odnosno sudskim rješenjem kažnjen za prekršaje kažnjive prema odredbama Zakona o osnovama bezbjednosti saobraćaja na putevima u Bosni i Hercegovini?

- 1 dva, tri i pet bodova, što je određeno kaznenim odredbama zakona;
- 2 jedan i dva boda, zavisno od težine učinjenog prekršaja;
- 3 dva i tri boda koja utvrđuje sud prilikom određivanja kazne.

19 Na putevima rezervisanim za saobraćaj motornih vozila i brzim putevima (van naselja) vozač ne smije vozilom da se kreće: (više tačnih odgovora)

- 1 brzinom većom od 130 km na čas;
- 2 brzinom većom od 120 km na čas;
- 3 brzinom većom od brzine određene saobraćajnim znakom postavljenim na putu;
- 4 brzinom većom od 100 km na čas.


20 Vozačka dozvola izdaje se za upravljanje motornim i priključnim vozilima koja se razvrstavaju u: (više tačnih odgovora)

- 1 kategorije A, B, C, D i E;
- 2 kategorije A, B, BE, C, CE, D i DE;
- 3 potkategorije F, G i H;
- 4 potkategorije A1, B1, C1, D1, C1E i D1E.

A. B. T


21 Tačan naziv saobraćajnog znaka je:

- 1 radionica za popravak guma;
- 2 mjesto gdje možete kontrolisati pritisak u gumama.



22 Dvostruka isprekidana linija služi za obilježavanje:

- 1 saobraćajnih traka sa izmjenljivim smjerom kretanja na kojima je saobraćaj regulisan uređajima za davanje svjetlosnih saobraćajnih znakova;
- 2 saobraćajne trake koju mogu koristiti samo vozila sa pravom prvenstva prolaza.



23 Koja vozila se obilježavaju znakom kao na slici?

- 1 vozila koja prevoze opasne materije;
- 2 spora vozila;



24 Tačan naziv saobraćajnog znaka je:

- 1 prvenstvo prolaza za vozila iz suprotnog smjera;
- 2 dozvoljeni smjer;
- 3 saobraćaj u oba smjera.



25 Tačan naziv saobraćajnog znaka je?

- 1 životinje na putu;
- 2 divljač na putu.



26 Tačan naziv saobraćajnog znaka je:

- 1 zabrana saobraćaja za vozila koja prevoze opasne materije;
- 2 zabrana saobraćaja za vozila cisterne.




27 Koje značenje ima ovaj saobraćajni znak?

- 1 obavezno se prestrojiti u desnu saobraćajnu traku;
- 2 najava završetka preticanja.



28 Koje značenje ima ovaj saobraćajni znak?

- 1 dozvoljeni smjer;
- 2 prvenstvo prolaza u odnosu na vozila koja dolaze iz suprotnog smjera;
- 3 put sa jednosmjernim saobraćajem.



29 Koje značenje ima ovaj saobraćajni znak?

- 1 mjesto u naselju na kojem se ulazi u područje u kojem se ne smije upravljati vozilom brže od brzine hoda pješaka budući da je dječija igra dopuštena;
- 2 mjesto u naselju na kojem se ulazi u područje u kojem je dozvoljeno upravljati vozilom brže od brzine hoda pješaka.



30 Sta označava crvena kontrolna lampica ako vam se upali za vrijeme kretanja vozilom, kao na slici?

- 1 kvar u sistemu za punjenje akumulatora;
- 2 kvar u sistemu za osvetljenje puta.



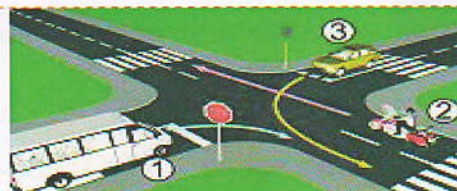
31 Koji je redoslijed prolaska vozila na raskrsnici u situaciji kao na slici?

- 1 2 - 3 - 1;
- 2 2 - 1 - 3;
- 3 3 - 1 - 2.



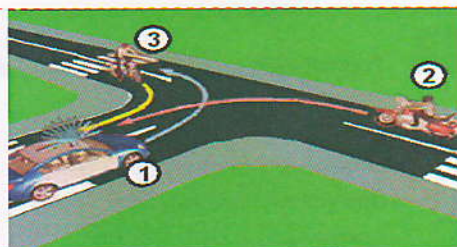
32 Koji je redoslijed prolaska vozila na raskrsnici u situaciji kao na slici?

- 1 1 - 3 - 2;
- 2 2 - 3 - 1;
- 3 2 - 1 - 3.



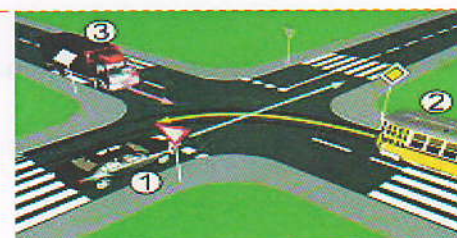
33 Koji je redoslijed prolaska vozila na raskrsnici u situaciji kao na slici?

- 1 3 - 2 - 1;
- 2 2 - 1 - 3;
- 3 1 - 3 - 2.




34 Koji je redoslijed prolaska vozila na raskrsnici u situaciji kao na slici?

- 1 3 - 2 - 1;
- 2 2 - 3 - 1;
- 3 1 - 2 - 3.



35 Koji je redoslijed prolaska vozila na raskrsnici u situaciji kao na slici?

- 1 1 – 2 – 3;
- 2 2 – 3 – 1;
- 3 3 – 2 – 1.



36 Kako ćete postupiti na raskrsnici na kojoj je saobraćaj regulisan svjetlosnom saobraćajnom signalizacijom kao na slici?

- 1 obavezno zaustaviti vozilo jer se uključujem sa sporednog puta;
- 2 obavezno zaustaviti vozilo zbog znaka „STOP“;
- 3 nastaviti kretanje vozilom.



37 Kako ćete postupiti u saobraćajnoj situaciji kao na slici?

- 1 obratiti pažnju na moguću djecu na putu ili u blizini puta, a brzinu kretanja vozila prilagoditi trenutnim uslovima saobraćaja, s tim da brzina ne smije biti veća od brzine određene saobraćajnim znakom;
- 2 obratiti pažnju samo ako se djeca nalaze na putu, a brzinu prilagoditi trenutnim uslovima saobraćaja.



38 Kako ćete postupiti u saobraćajnoj situaciji kao na slici ako kretanje vozilom nastavljate pravo, na raskrsnici puteva iste važnosti na kojoj uređaji za davanje svjetlosnih saobraćajnih znakova nisu u funkciji? (više tačnih odgovora)

- 1 pažljivo proći vozilom kroz raskrsnicu;
- 2 propustiti vozila koja dolaze i sa lijeve i sa desne strane;
- 3 propustiti vozila koja dolaze sa desne strane;
- 4 propustiti vozila iz suprotnog smjera koja namjeravaju okrenuti ulijevo.



39 Kako ćete postupiti u saobraćajnoj situaciji kao na slici?

- 1 proći prvi kroz raskrsnicu jer imate prednost;
- 2 propustiti oba vozila i zadnji proći kroz raskrsnicu;
- 3 propustiti vozilo hitne pomoći koje daje svjetlosne znakove, a zatim proći kroz raskrsnicu.



40 Kako trebate postupiti u saobraćajnoj situaciji kao na slici prilikom približavanja raskrsnici? (više tačnih odgovora)

- 1 propustiti vozilo koje dolazi iz suprotnog smjera kretanja, i ima namjeru izvršiti radnju skretanja udesno;
- 2 proći prvi kroz raskrsnicu;
- 3 proći drugi kroz raskrsnicu;
- 4 propustiti vozilo koje dolazi sa desne strane.



KONTROLNI LIST TEST BR. 8

1	1	2	3	4	6	1	2	3	4	11	1	2	3	4	16	1	2	3	4	21	1	2	3	4	26	1	2	3	4	31	1	2	3	4	36	1	2	3	4
2	1	2	3	4	7	1	2	3	4	12	1	2	3	4	17	1	2	3	4	22	1	2	3	4	27	1	2	3	4	32	1	2	3	4	37	1	2	3	4
3	1	2	3	4	8	1	2	3	4	13	1	2	3	4	18	1	2	3	4	23	1	2	3	4	28	1	2	3	4	33	1	2	3	4	38	1	2	3	4
4	1	2	3	4	9	1	2	3	4	14	1	2	3	4	19	1	2	3	4	24	1	2	3	4	29	1	2	3	4	34	1	2	3	4	39	1	2	3	4
5	1	2	3	4	10	1	2	3	4	15	1	2	3	4	20	1	2	3	4	25	1	2	3	4	30	1	2	3	4	35	1	2	3	4	40	1	2	3	4

0-20= X2 poena

21-30= X3 poena

31-40= X5 poena

**Ukupno 120 poena,
za prolaz dovoljno 90%
ili 108 poena**