

**TEST**

**13**

**1** **Vozač je:**

- 1 svako lice koje se u saobraćaju na putu nalazi u vozilu;
- 2 lice koje na putu upravlja vozilom.

A, B, C, D, T

**2** **Kako se naziva uzdužni dio kolovoza namijenjen za saobraćaj vozila u jednom smjeru sa jednom ili više saobraćajnih traka?**

- 1 kolovozna traka;
- 2 kolovoz;
- 3 saobraćajna traka.

A, B, C, D, T

**3** **Preglednost podrazumijeva:**

- 1 prostor koji učesnik u saobraćaju može da vidi sa mjesta na kojem se nalazi;
- 2 mjesto na raskrsnici sa kojeg vozač vidi ulijevo i desno najmanje 25 m;
- 3 mjesto na raskrsnici sa kojeg vozač vidi ulijevo najmanje 25 m.

A, B, C, D, T

**4** **Stiker-naljepnica je:**

- 1 dokaz o izvršenom tehničkom pregledu;
- 2 dokaz o plaćenju putarini;
- 3 dokaz o izvršenoj registraciji vozila.

A, B, C, D, T

**5** **Projektovanjem i gradnjom novih javnih puteva, osim lokalnih, mora se obezbijediti da podnesu osovinsko opterećenje od:**

- 1 najmanje 10 t po osovini;
- 2 najmanje 11,5 t po osovini;
- 3 najmanje 11 t po osovini.

B, C, D

**6** **Iznad kolovoza javnog puta mora da postoji slobodan prostor u visini od najmanje:**

- 1 4,5 m od najviše tačke kolovoza;
- 2 4 m od najviše tačke kolovoza;
- 3 6 m od najviše tačke kolovoza.

A, B, C, D

**7** **Šta utiče na produženje puta kočenja? (više tačnih odovora)**

- 1 mokar kolovoz;
- 2 suv kolovoz;
- 3 opterećenje vozila.

A, B, C, D, T

**8** **Koja je najveća dozvoljena brzina kretanja za motorna vozila koja vuku prikolicu za stanovanje (karavan) ili laku prikolicu?**

- 1 60 km/h;
- 2 80 km/h;
- 3 90 km/h.

B, C

**9** **Novoprodukovana motorna i priključna vozila, nakon tehničkog pregleda prije prve registracije, vlasnici su dužni da odvezu na redovan tehnički pregled?**

- 1 u toku mjeseca u kojem ističe rok od 36 mjeseci od dana prve registracije;
- 2 u toku mjeseca u kojem ističe rok od 12 mjeseci od dana prve registracije;
- 3 u toku mjeseca u kojem ističe rok od 24 mjeseci od dana prve registracije.

A, B, C, D, T

**10** **Kako djeca najčešće reaguju u saobraćaju?**

- 1 razumno i staloženo;
- 2 u skladu sa propisima;
- 3 spontano i nepredvidivo.

A, B, C, D, T

**11** Kako svojim ponašanjem u saobraćaju, za vrijeme upravljanja vozilom, možete doprinijeti smanjenju saobraćajnog rizika? (više tačnih odovora)

- 1 agresivnom vožnjom;
- 2 poštovanjem saobraćajnih pravila i propisa;
- 3 defanzivnom vožnjom.

A, B, C, D, T

**12** Pomoću užeta ne smije da se vuče motorno vozilo: (više tačnih odovora)

- 1 na kojem su neispravni uređaji za osvijetljavanje puta, označavanje vozila i za davanje svjetlosnih znakova;
- 3 na kojem su neispravni uređaji za zaustavljanje;
- 4 na kojem su neispravni uređaji za upravljanje.

B, C, T

**13** Za koji period važi ljekarsko uvjerenje o zdravstvenoj sposobnosti za upravljanje motornim vozilom?

- 1 12 mjeseci od dana izdavanja;
- 2 6 mjeseci od dana izdavanja.

A, B, C, D, T

**14** Krutom vezom (rudom) ne smije da se vuče motorno vozilo:

- 1 koje ima ispravan uređaj za upravljanje;
- 2 koje je teže od vučnog vozila, ako mu je neispravna pomoćna kočnica.

B, C, T

**15** Zaustavljanje vozila je:

- 1 svaki prekid kretanja vozila na putu u trajanju do 15 minuta, osim prekida koji se pravi da bi se postupilo po znaku ili pravilu kojim se reguliše saobraćaj;
- 2 svaki prekid kretanja vozila na putu u trajanju do 5 minuta, osim prekida koji se pravi da bi se postupilo po znaku ili pravilu kojim se reguliše saobraćaj.

A, B, C, D, T

**16** Pješak je:

- 1 lice koje se vozi na koturaljkama;
- 2 lice koje upravlja vozilom, ili se prevozi u vozilu ili na vozilu.

A, B, C, D, T

**17** Ako se na putu kreću dva ili više vozila koja prevoze opasne materije, odstojanje između tih vozila ne smije biti manje od:

- 1 150 m;
- 2 200 m;
- 3 280 m.

B, C

**18** Ako teret na motornom ili priključnom vozilu sa bočne strane prelazi više od 20 cm vanjsku ivicu prednjeg ili zadnjeg svjetla za označavanje vozila mora se, noću, kao i danju u slučaju smanjene vidljivosti, označiti svjetlom i katadioptrima koji:

- 1 sa prednje strane daju bijelo a sa zadnje crveno svjetlo;
- 2 sa prednje strane daju bijelo a sa zadnje narandžasto svjetlo;
- 3 sa prednje i zadnje strane daju bijelo svjetlo.

B, C, T

**19** Vuča neispravnog vozila koje je natovareno opasnim materijama, obavlja se pomoću:

- 1 užeta;
- 2 automatskih vučnih kuka sa višestepenovanom regulacijom;
- 3 krute veze (rude);
- 4 oslanjanjem ili vješanjem vozila na vučno vozilo.

B, C

**20** Vozač ne čini povredu propisa ako teret na vozilu kojim upravlja prelazi najudaljeniju tačku na prednjoj strani vozila: (više tačnih odgovora)

- 1 više od 1 m ali ne više od 2 m, ako je prednji dio tereta obilježen crvenom tkaninom;
- 2 za 80 cm;
- 3 za 100 cm;
- 4 za dužinu koja nije propisana, ako je prednji dio tereta obilježen odgovarajućom tablom.

B, C, T

21

Koje značenje ima ovaj saobraćajni znak?

- 1 blizina raskrsnice na kojoj se saobraćaj odvija kružno;
- 2 kružni tok saobraćaja.



22

Koje značenje ima ovaj saobraćajni znak?

- 1 vremensko ograničenje parkiranja;
- 2 zona u kojoj je ograničeno trajanje parkiranja;
- 3 parkiralište.



23

Kako ćete postupiti prilikom nailaska na saobraćajni znak sa dopunskom tablom, ukoliko nastavljate kretanje vozilom pravo?

- 1 propustiću vozila koja se nalaze na putu sa prvenstvom prolaza;
- 2 obavezno ću se zaustaviti;
- 3 propustiću samo vozila sa desne strane.



24

Koje značenje ima ovaj saobraćajni znak? (više tačnih odgovora)


- 1 da upravljamo vozilom po jednosmjernom putu;
- 2 da ne smijemo skrenuti udesno ili ulijevo;
- 3 da je zabranjen saobraćaj iz suprotnog smjera.



25

Kako postupate za vrijeme upravljanja vozilom nailaskom na ovaj saobraćajni znak? (više tačnih odgovora)

- 1 smanjujete brzinu kretanja vozila jer nailazite na oštru krivinu udesno;
- 2 izbjegavate kočenje u krivini;
- 3 povećavate brzinu kretanja vozila.



26

Na šta vas upozorava crvena kontrolna lampica na instrument-tabli, ako vam se upali za vrijeme kretanja vozilom, kao na slici?

- 1 višak ulja u motoru;
- 2 kvar u sistemu za podmazivanje motora.



27

Koje značenje ima ovaj saobraćajni znak?

- 1 zabrana prelaza za bicikl;
- 2 obilježeni prelaz biciklističke staze.




28 Kako treba postupiti prilikom nailaska vozilom na ovlašteno lice koje u vašem smjeru kretanja daje znak kao na slici?

- 1 izvršiti radnju skretanja udesno;
- 2 izvršiti radnju skretanja ulijevo;
- 3 obavezno se zaustaviti.



29 Koje značenje ima ovaj saobraćajni znak?

- 1 mjesto gdje se nailazi na oštru krivinu;
- 2 mjesto gdje se nailazi na blagu krivinu;
- 3 mjesto gdje se izvode radovi na putu.



30 Koje značenje ima ovaj saobraćajni znak?

- 1 zabrana kretanja za bicikliste i pješake;
- 2 razdvojena staza za pješake i bicikliste, kojom je zabranjeno kretanje drugih učesnika u saobraćaju;
- 3 staza za kretanje pješaka, bicikla i motocikla.



31 Kako ćete postupiti u saobraćajnoj situaciji kao na slici?

- 1 propustiti oba vozila;
- 2 propustiti samo crveno vozilo;
- 3 proći prvi kroz raskrsnicu.




32 Kako ćete postupiti u saobraćajnoj situaciji kao na slici?  
(više tačnih odgovora)

- 1 propustiti pješake koji prelaze preko pješačkog prelaza;
- 2 proći prije pješaka;
- 3 propustiti tramvaj koji dolazi iz suprotnog smjera.



33 Kako ćete postupiti na raskrsnici u saobraćajnoj situaciji kao na slici?

- 1 proći prvi kroz raskrsnicu;
- 2 propustiti oba vozila;
- 3 propustiti samo crveno vozilo.




34 Kako ćete postupiti na raskrsnici u saobraćajnoj situaciji kao na slici?

- 1 propustiti autobus;
- 2 proći kroz raskrsnicu prije autobusa.



**35** Kako ćete postupiti u saobraćajnoj situaciji kao na slici ako je na semaforu upaljeno crveno svjetlo i dopunska strelica za skretanje udesno? (više tačnih odgovora)

- 1 propustiti crveno vozilo koje dolazi sa lijeve strane;
- 2 proći kroz raskrnicu prije crvenog vozila;
- 3 izvršiću radnju skretanja udesno nakon crvenog vozila.



**36** Kako trebate postupiti u saobraćajnoj situaciji kao na slici? (više tačnih odgovora)

- 1 povećati brzinu kretanja vozila;
- 2 obratiti pažnju na postupke vozača vozila iz suprotnog smjera;
- 3 propustiti vozilo iz suprotnog smjera, a zatim proći dionicu na kojoj je suženje puta.



**37** Kako trebate postupiti u saobraćajnoj situaciji kao na slici?

- 1 proći prvi kroz raskrnicu jer nastavljate kretanje vozilom pravo;
- 2 propustiti oba vozila;
- 3 proći drugi kroz raskrnicu;
- 4 propustiti samo crveni automobil.



**38** Kako ćete postupiti ako se krećete putem na kome se izvode radovi u saobraćajnoj situaciji kao na slici?

- 1 zaustaviti se jer se izvode radovi na saobraćajnoj traci kojom se krećem vozilom;
- 2 nastaviti kretanje vozilom jer je na semaforu upaljeno zeleno svjetlo.




**39** Kako ćete postupiti u saobraćajnoj situaciji kao na slici ukoliko upravljate crnim utomobilom?

- 1 obavezno se zaustaviti;
- 2 nastaviti kretanje vozilom uz povećani oprez;
- 3 obavezno izvršiti radnju skretanja udesno.



**40** Kako ćete postupiti u saobraćajnoj situaciji kao na slici na prelazu puta preko željezničke pruge u istom nivou kada se crvena svjetla počinjnu naizmjenično da pale?

- 1 nastaviti kretanje vozilom dok se polubranik još nije spustio;
- 2 zaustaviti vozilo ispred pružnog prelaza i sačekati prolazak voza.



# KONTROLNI LIST

## TEST BR. 13

1	1	2	3	4	6	1	2	3	4	16	1	2	3	4	21	1	2	3	4	26	1	2	3	4	31	1	2	3	4	36	1	2	3	4
2	1	2	3	4	7	1	2	3	4	17	1	2	3	4	22	1	2	3	4	27	1	2	3	4	32	1	2	3	4	37	1	2	3	4
3	1	2	3	4	8	1	2	3	4	18	1	2	3	4	23	1	2	3	4	28	1	2	3	4	33	1	2	3	4	38	1	2	3	4
4	1	2	3	4	9	1	2	3	4	19	1	2	3	4	24	1	2	3	4	29	1	2	3	4	34	1	2	3	4	39	1	2	3	4
5	1	2	3	4	10	1	2	3	4	20	1	2	3	4	25	1	2	3	4	30	1	2	3	4	35	1	2	3	4	40	1	2	3	4

0-20= X2 poena

21-30= X3 poena

31-40= X5 poena

Ukupno 120 poena,  
za prolaz dovoljno 90%

ili 108 poena