

TEST

12

1 Motorno vozilo koje vuče vozilo koje prevozi opasne materije, ne smije se kretati brzinom većom od:

- 1 25 km/h;
- 2 30 km/h;
- 3 40 km/h.

B, C

2 Koja motorna i priključna vozila moraju imati gabaritna svjetla?

- 1 motorna i priključna vozila čija visina prelazi 2,8 m;
- 2 motorna i priključna vozila koja su šira od 2,1 m.

B, C, D, T

3 Lice koje je položilo vozački ispit i kome je izdata vozačka dozvola za kategoriju vozila A, B ili C1 ne smije dvije godine od dana izdavanja vozačke dozvole upravljati vozilom na autoputu brzinom većom od:

- 1 130 km/h;
- 2 70 km/h;
- 3 100 km/h;
- 4 120 km/h.

A, B, C

4 Teret na vozilu ne smije da pređe najudaljeniju tačku na prednjoj strani vozila za više od:

- 1 0,25 m;
- 2 0,50 m;
- 3 1,00 m;
- 4 jednu šestinu svoje dužine.

B, C, T

5 Da li se, po pravilu, od momenta prijema do momenta predaje opasne materije vozač motornog vozila smije udaljiti od vozila?

- 1 da;
- 2 ne.

B, C

6 Ako je vozač prinuđen zaustaviti ili parkirati vozilo na kolovozu sa dvije saobraćajne trake gdje se saobraćaj odvija u oba smjera: (više tačnih odgovora)

- 1 dužan je obilježiti vozilo posebnim znakom kojim se označava zaustavljeno vozilo na kolovozu (bezbjednosni trokut);
- 2 nije dužan obilježiti vozilo posebnim znakom kojim se označava zaustavljeno vozilo na kolovozu (bezbjednosni trokut);
- 3 mora uključiti uređaj za istovremeno paljenje svih pokazivača smjera, ako je u motornom vozilu ugrađen taj uređaj.

A, B, C, D, T

7 Pravilnik o tehničkim pregledima podrazumijeva da su laka vozila ona vozila čija najveća dopuštena masa ne prelazi:

- 1 3,5 t;
- 2 7,5 t.

A, B, T

8 Vozila koja ne ispunjavaju propisane uslove u pogledu dimenzija, ukupne mase i osovinskog opterećenja mogu da učestvuju u saobraćaju na javnom putu?

- 1 ako ispunjavaju posebne uslove koji omogućavaju bezbjedan i nesmetan saobraćaj, utvrđene u odobrenju koje je izdalo nadležno ministarstvo;
- 2 ako se kreću po putu van naselja.

A, B, C, D, T

9 Širina motornih i priključnih vozila, uključujući izmjenjive nadgradnje za prihvat tereta, kao i svih uređaja koji se pri vožnji nalaze na vozilu, izuzimajući uređaje za čišćenje snijega i vozila namijenjenih za zimsko održavanje puteva, može biti maksimalne vrijednosti:

- 1 2,00 m;
- 2 2,50 m;
- 3 2,55 m;
- 4 4,50 m.

B, C, T

10 Teret koji se prevozi na vozilu i priključnom vozilu može da pređe najudaljeniju tačku na zadnjoj strani vozila najviše za:

- 1 jednu šestinu svoje dužine koja je kao kontinuiran teret oslonjena na tovarni prostor;
- 2 jednu petinu svoje dužine koja je kao kontinuiran teret oslonjena na tovarni prostor;
- 3 jednu četvrtinu svoje dužine koja je kao kontinuiran teret oslonjena na tovarni prostor.

B, C, T

11 Vozača na vanredni ljekarski pregled rješenjem upućuje:

- 1 radnik policije;
- 2 organ kod koga se vozač vodi u evidenciji;
- 3 nadležna zdravstvena organizacija.

A, B, C, D, T

12 Visina motornih i priključnih vozila, uključujući izmjenjive nadgradnje za prihvatanje tereta kao i svih uređaja koji se pri vožnji nalaze na vozilu, može imati maksimalnu vrijednost:

- 1 5,00m;
- 2 4,00 m;
- 3 3,00 m;
- 4 4,50 m.

B, C, D, T

13 Ako je odgovarajućom metodom utvrđeno da vozač u krvi ima 0,2 g/kg, smatra se da je pod dejstvom alkohola ukoliko upravlja vozilom: (više tačnih odgovora)

- 1 bilo koje kategorije;
- 2 kategorija C ili CE;
- 3 kategorija D ili DE;
- 4 kategorije A.

B, C, D

14 Na teretnom vozilu u prostoru za smještaj tereta može se prevoziti :

- 1 najviše 10 lica koja utovaraju ili istovaraju teret ili obavljaju druge radnje;
- 2 najviše 5 lica koja utovaraju ili istovaraju teret ili obavljaju druge radnje;
- 3 najviše 7 lica koja utovaraju ili istovaraju teret ili obavljaju druge radnje.

B, C

15 Da li se na vozila smiju postavljati gume sa ekserima?

- 1 da;
- 2 ne.

A, B, C, D, T

16 Da li se u zatvorenom prostoru vozi la koje se ne može otvoriti iz nutra smiju prevoziti lica?

- 1 da;
- 2 ne.

B, C

17 Vozač koji upravlja „skupom vozila“ čija je najveća dozvoljena masa veća od 3.500 kg ne smije neprekidno upravljati vozilom:

- 1 duže od 4,5 h;
- 2 duže od 5 h;
- 3 duže od 9 h.

B, C

18

Motorna vozila kojima se prevoze opasne materije

1

mogu se zaustavljati i parkirati samo na mjestima koja su za tu vrstu vozila određena i obilježena.;

2

mogu se zaustavljati i parkirati na kolovozu.

B, C

19

Motorno vozilo koje prevozi opasne materije mora biti obilježeno sa prednje strane:

1

sa dva okrugla bijela svjetla, prečnika najmanje 10 cm na gornjim uglovima vozila;

2

sa dva okrugla narandžasta svjetla, prečnika najmanje 10 cm na gornjim uglovima vozila.

B, C

20

Šta znači znak „X” u gornjem redu identifikacione table za prevoz opasnih materija?

1

da opasna materija burno reaguje ako dođe u dodir sa otvorenim plamenom;

2

da opasna materija burno reaguje ako dođe u dodir sa vodom.

B, C

21

Šta treba izbjegavati nailaskom na ovaj saobraćajni znak?
(više tačnih odgovora)

1

vožnju prilagođenu uslovima koji vladaju na kolovozu;

2

nagle pokrete točkom upravljača;

3

naglo kočenje i zaustavljanje.



22

Kako treba postupiti nailaskom na ovaj saobraćajni znak?
(više tačnih odgovora)

1

smanjiti brzinu kretanja vozila i povećavati pažnju;

2

predvidjeti mogućnost nailaska na poledicu na kolovozu;

3

povećavati brzinu kretanja vozila.



23

Tačan naziv saobraćajnog znaka je?

1

ukrštanje puteva istog značaja;

2

ukrštanje sporednih puteva pod ostrim uglom.



24

Kako treba postupiti nailaskom na ovaj saobraćajni znak?
(više tačnih odgovora)

1

smanjiti brzinu kretanja vozila;

2

povećavati pažnju i očekivati bicikliste;

3

povećati brzinu kretanja vozila.



25

Koje značenje ima ovaj saobraćajni znak? (više tačnih odgovora)

1

staza kojom se moraju kretati bicikli;

2

biciklistička staza;

3

zabrana kretanja za bicikle.



26

Kako treba postupiti nailaskom na ovaj saobraćajni znak? (više tačnih odgovora)

1

obavezno zaustaviti vozilo;

2

nastaviti kretanje vozilom sa naročitom oprežnošću;

3

smanjiti brzinu kretanja vozila tako da se u slučaju potrebe može blagovremeno izvršiti radnja kočenja i zaustavljanja;

4

nastaviti kretanje vozilom bez smanjenja brzine kretanja.



27

Koje značenje ima ovaj saobraćajni znak?

- 1 zabrana kretanja za bicikliste i pješake;
- 2 razdvojena staza za pješake i bicikliste, kojom je zabranjeno kretanje drugih učesnika u saobraćaju, staza za kretanje pješaka, bicikla i motocikla.
- 3



28 Kako treba postupiti nailaskom na ovaj saobraćajni znak?

- 1 povećati brzinu kretanja vozila;
- 2 prilagoditi brzinu kretanja vozila uslovima i stanju na putu jer postoji povećana opasnost od iskliznuća ili prevrtanja vozila.



29 Na koju opasnost upozorava ovaj saobraćajni znak?

- 1 na blizinu tramvajske pruge;
- 2 na blizinu prelaza puta preko željezničke pruge u nivou koja je obezbijeđena branicima ili polubranicima;
- 3 na blizinu prelaza puta preko željezničke pruge u nivou koja nije obezbijeđena branicima ili polubranicima.



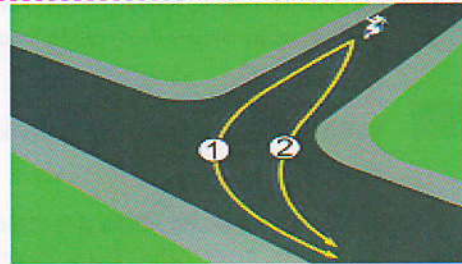
30 Na koju opasnost upozorava ovaj saobraćajni znak?

- 1 na blizinu dijela puta na kojem su česte duže kolone vozila u kretanju;
- 2 na blizinu dijela puta na kojem u određenim uslovima saobraćaja ili drugim okolnostima postoji opasnost od kolone zaustavljenih vozila.



31 U saobraćajnoj situaciji kao na slici kojom putanjom vozač motocikla mora izvršiti radnju skretanja ulijevo?

- 1 putanjom broj 2;
- 2 putanjom broj 1.



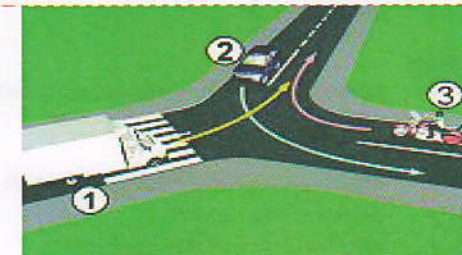
32 Koji je redoslijed prolaska vozila na raskrsnici u situaciji kao na slici?

- 1 5 - 4 - 3 - 2 - 1;
- 2 1 - 2 - 3 - 4 - 5.



33 Koji je redoslijed prolaska vozila na raskrsnici u situaciji kao na slici?

- 1 2 - 1 - 3;
- 2 3 - 1 - 2;
- 3 1 - 2 - 3.



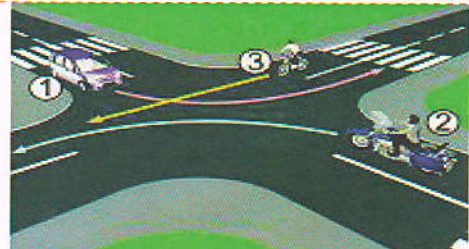
34 Koji je redoslijed prolaska vozila na raskrsnici u situaciji kao na slici?

- 1 2 - 1 - 3;
- 2 3 - 1 - 2;
- 3 3 - 2 - 1.



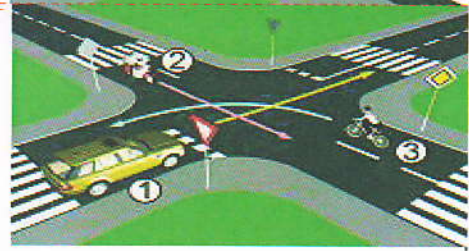
35 Koji je redoslijed prolaska vozila na raskrsnici u situaciji kao na slici?

- 1 2 – 3 – 1;
- 2 1 – 3 – 2;
- 3 2 – 1 – 3.



36 Koji je redoslijed prolaska vozila na raskrsnici u situaciji kao na slici?

- 1 2 – 3 – 1;
- 2 2 – 1 – 3;
- 3 3 – 1 – 2.




37 Kako ćete postupiti u saobraćajnoj situaciji kao na slici ako upravljate plavim automobilom?

- 1 proći prvi jer sam sa desne strane;
- 2 proći prvi jer skrećem udesno;
- 3 zaustaviti se i propustiti crveno vozilo.



38 U saobraćajnoj situaciji kao na slici, vozač kamiona prilikom vršenja radnje kretanja vozilom unazad mora da se kreće:

- 1 linijama broj 1 i broj 2;
- 2 linijom broj 2;
- 3 linijom broj 1.



39 U saobraćajnoj situaciji kao na slici, plavi putnički automobil:

- 1 ne čini prekršaj jer je prelaz preko pruge regulisan svjetlosnim saobraćajnim znakovima;
- 2 čini prekršaj.



ako na raskrsnici skrećete ulijevo dok je na semaforu upaljeno zeleno svjetlo?

- 1 zaustaviti se prije raskrsnice;
- 2 propustiti tramvaj koji dolazi iz suprotnog smjera.



KONTROLNI LIST

TEST BR. 12

1	2	3	4	6	1	2	3	4	11	1	2	3	4	16	1	2	3	4	21	1	2	3	4	26	1	2	3	4	31	1	2	3	4	36	1	2	3	4	
2	1	2	3	4	7	1	2	3	4	12	1	2	3	4	17	1	2	3	4	22	1	2	3	4	27	1	2	3	4	32	1	2	3	4	37	1	2	3	4
3	1	2	3	4	8	1	2	3	4	13	1	2	3	4	18	1	2	3	4	23	1	2	3	4	28	1	2	3	4	33	1	2	3	4	38	1	2	3	4
4	1	2	3	4	9	1	2	3	4	14	1	2	3	4	19	1	2	3	4	24	1	2	3	4	29	1	2	3	4	34	1	2	3	4	39	1	2	3	4
5	1	2	3	4	10	1	2	3	4	15	1	2	3	4	20	1	2	3	4	25	1	2	3	4	30	1	2	3	4	35	1	2	3	4	40	1	2	3	4

0-20= X2 poena

21-30= X3 poena

31-40= X5 poena

Ukupno 120 poena,
za prolaz dovoljno 90%
ili 108 poena